

SA's Leading Past Year

Exam Paper Portal



You have Downloaded, yet Another Great Resource to assist you with your Studies 😊

Thank You for Supporting SA Exam Papers

Your Leading Past Year Exam Paper Resource Portal

Visit us @ www.saexampapers.co.za



**SA EXAM
PAPERS**
SA EXAM
PAPERS

Vertroulik



basic education

Department:
Basic Education
REPUBLIC OF SOUTH AFRICA

SENIORSERTIFIKAAT-EKSAMEN/ NASIONALE SENIORSERTIFIKAAT-EKSAMEN

WISKUNDIGE GELETTERDHEID V2

ADDENDUM

MEI/JUNIE 2024

Hierdie addendum bestaan uit 7 bladsye met 6 bylaes.



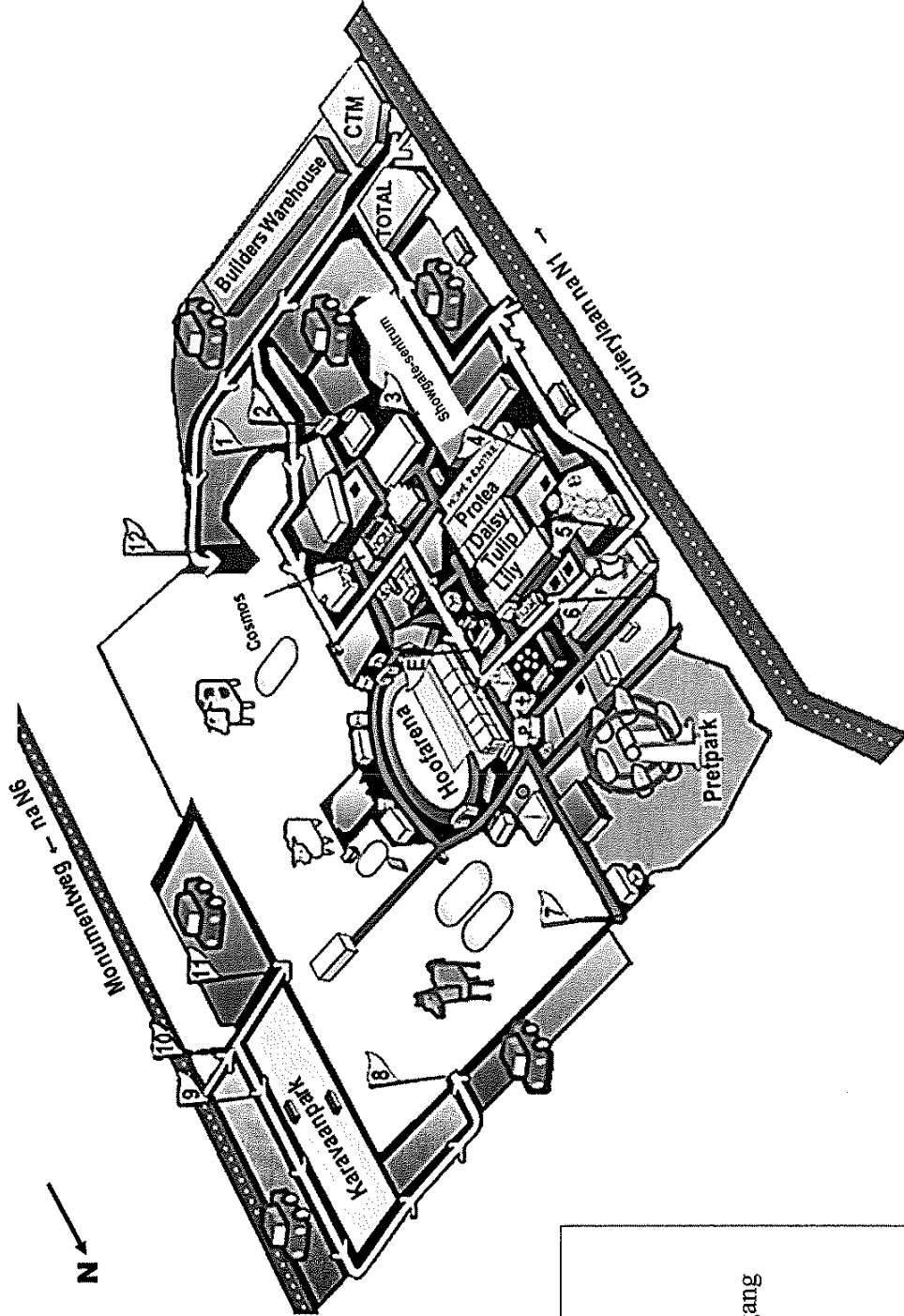
**BYLAE A
VRAAG 2.1**

TERREINKAART VAN DIE BLOEM-LANDBOUSKOU EN DIE INGANGSHEKKE NA DIE SKOUGROND

SLEUTEL	
P	Polisie
+	Noodhulp
	Openbare parkeerarea
	Perde
	Skape, bokke en varke (kleinvee)
	Beeste
E	Hoofvermaaklikheidsarea
	Die ligging en nommers van die hekke

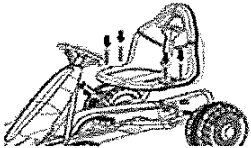

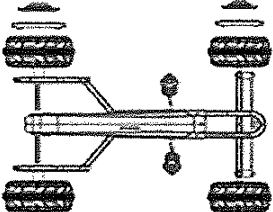

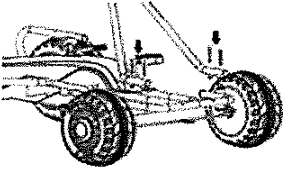
HEKKE

- 1 Voertuigingang
- 2 Hoof- publieke ingang
- 3 Showgate publieke ingang
- 4 Devils Fork Factory publieke ingang
- 5 Vodacom publieke ingang- en voertuigingang
- 6 Polisiehek (geen ingang)
- 7 Spoorweg- publieke ingang
- 8 Perdevoertuig- en telersingang
- 9 Karavaanpark en voertuigingang
- 10 Kleinveevoertuig- en telersingang 1
- 11 Kleinveevoertuig- en telersingang 2
- 12 Beeste-voertuig- en telersingang



BYLAE B

VRAAG 2.2


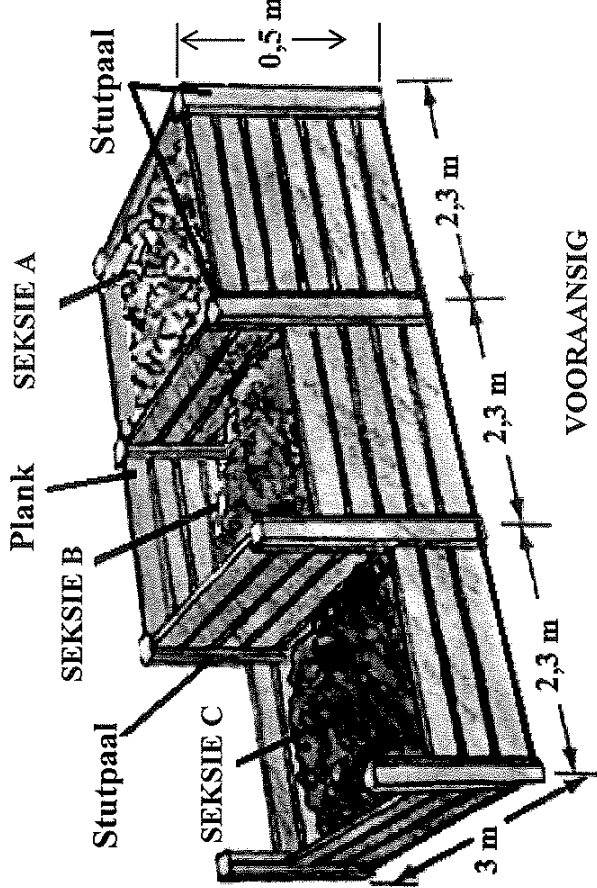
KOLOM A: INSTRUKSIES	KOLOM B: PRENTE
<p>2.2.1 Monteer die wioldoppe Maak die nawe aan die vellings ('hubs to the rims') vas en druk die dekoratiewe dop in die wioldop.</p>	<p>A</p> 
<p>2.2.2 Heg die raamwerkpype aan die pedaalmechanisme Heg die raamwerkpype aan die pedaalmechanisme en draai dit vas.</p>	<p>B</p> 
<p>2.2.3 Monteer die stuurmechanisme Druk die stuurwielstaaf deur die gat aan die onderkant van die raamwerk en in die middelste gat van die klamp in.</p>	<p>C</p> 
<p>2.2.4 Monteer die voorste paneel en stuurwiel Druk die stuurwiel in die stuurwielstaaf. Maak dit vas en draai dit met 'n sluitmoer vas.</p>	<p>D</p> 
<p>2.2.5 Monteer die sitplek Heg die sitplek aan die raamwerk vas met vier bulte, wasters en moere.</p>	<p>E</p> 

[Aangepas uit Kogan-Kids-Pedal-Go-Kart-KAPDGKRTBLA-Manual]



BYLAE C

VRAAG 3.2

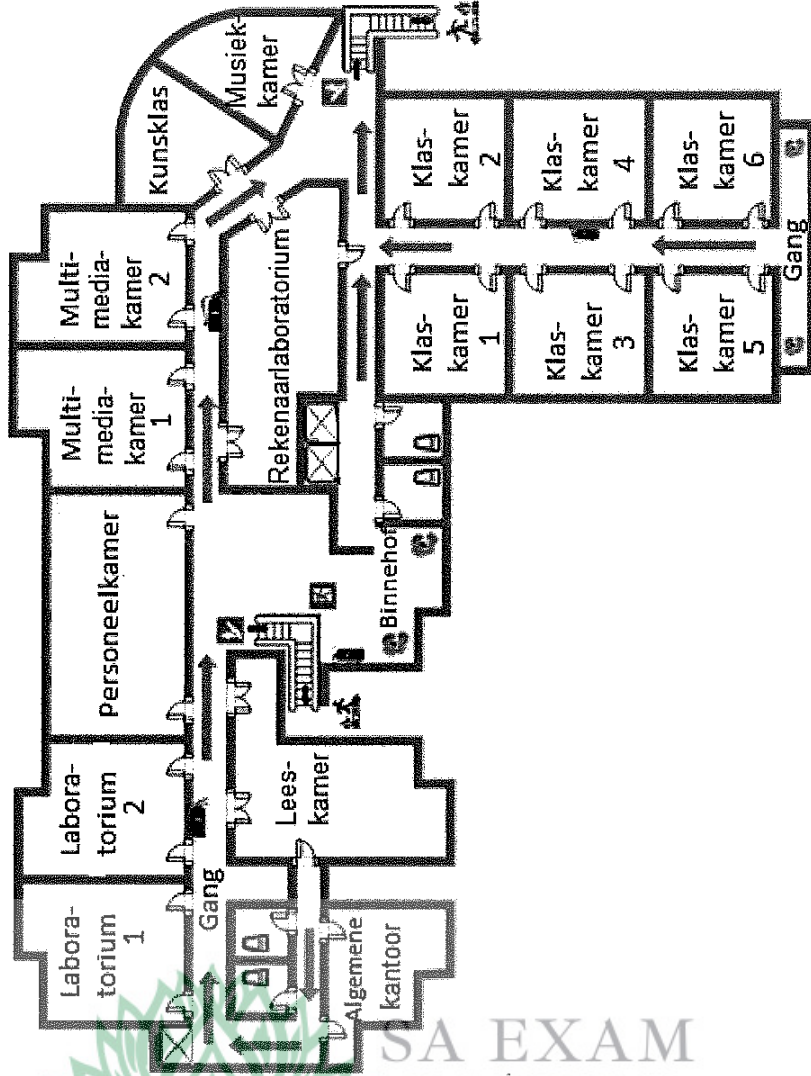
<p> EEN VAN DIE VIER GELYKE AANSIGTE VAN SEKSIË A </p> 	<p> KOMPOSBOKS MET 'N REGHOEKIGE BASIS WAT DRIE SEKSIËS (A, B en C) TOON WAT MET PLANKE VERBIND IS </p>
	<p> KANTAANSIG </p> <p> VOORAANSIG </p>



BYLAE D

VRAAG 4.1

UITLEGPLAN VAN DIE SKOOLGEBOU



SLEUTEL	
VERDUIDELIKING	SIMBOOL
Deur, enkel	
Deur, dubbel	
Uitgang om in geval van brand te gebruik	
Trappe	
Brandblusser	
Gangrigting om te volg in geval van ontruiming	

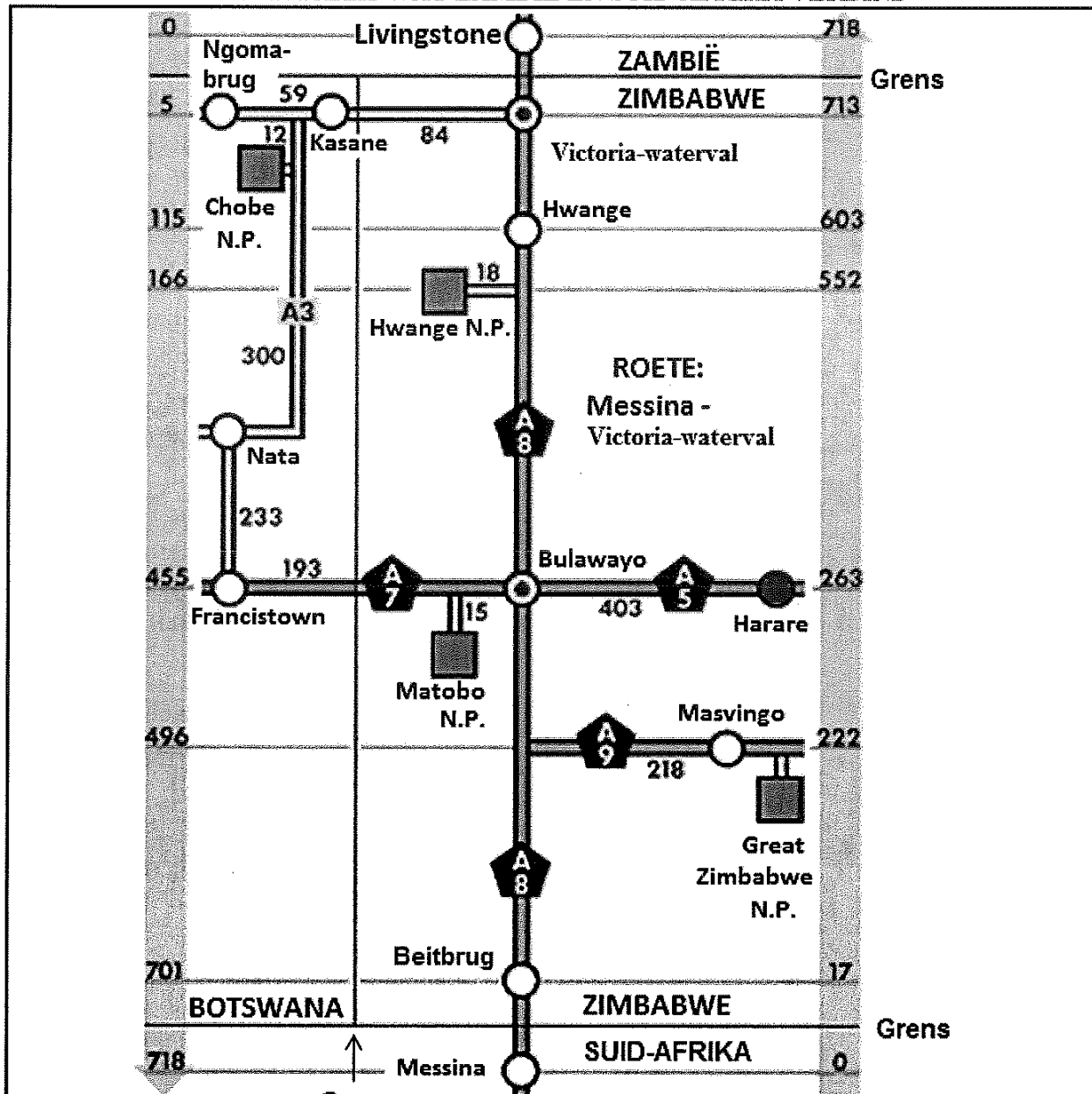
[Bron: www.edrawsoft.com/template-school-layout.html]



BYLAE E

VRAAG 4.2

STROOKKAART VAN PAAIE WAT ZAMBIË EN SUID-AFRIKA VERBIND

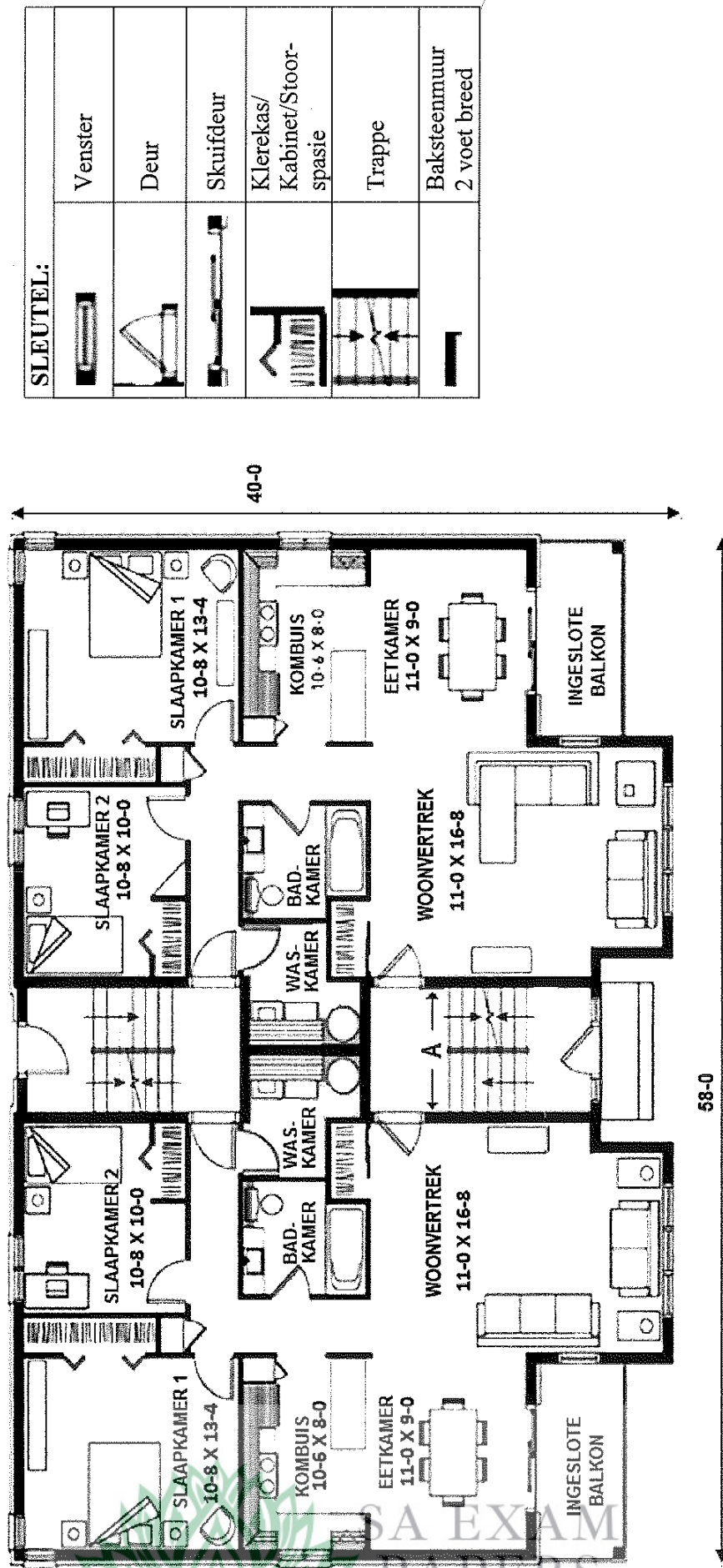


SLEUTEL:

Nasionale pad	=	SUID-AFRIKA	= Land
Nasionale pad (Botswana)	=	Harare	= Dorp/Stad
Nasionale park (N.P.)	=		

**BYLAE F
VRAAG 5.1**

UITLEGPLAN VAN DIE GRONDVLAK VAN DIE VIERVERDIEPINGGEBOU WAT TWEË WOONSTELLE TOON



SLEUTEL:	
	Venster
	Deur
	Skuifdeur
	Klerekas/ Kabinet/Stoor- spasie
	Trappe
	Baksteenmuur 2 voet breed

LET WEL: 58-0 beteken 58 voet
 10-8 beteken 10 voet en 8 duim
 Alle afmetings in die gebou word as lengte × breedte gegee.



